




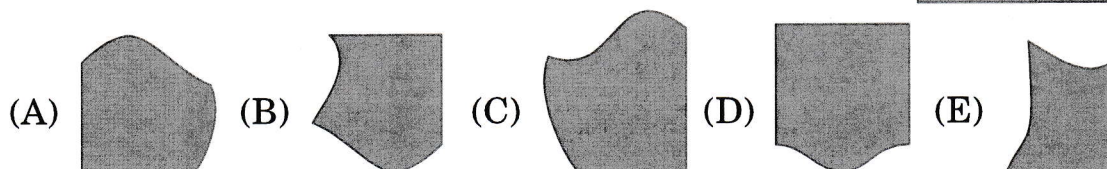

Úlohy za 3 body

1. Kolik nohou mají všechna zvířátka dohromady?

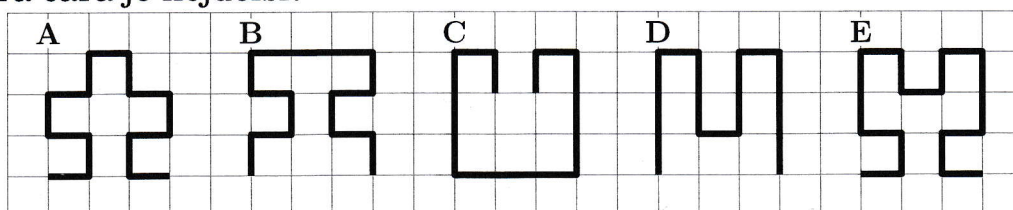


- (A) 5      (B) 10      (C) 12      (D) 14      (E) 20

2. Který tvar patří na prázdné místo?



3. Která čára je nejdelší?




- (A)      (B)      (C)      (D)      (E)






4. V pátek začne Dan tesat slovo CVRČEK. Každý den vytvoří jedno písmeno. Který den vytesá poslední písmeno?

- (A) v pondělí                      (B) v úterý                      (C) ve středu  
(D) ve čtvrtek                      (E) v pátek

Úlohy za 4 body

5. Na obrázku se Michal v loďce dívá ke břehu. Který odraz vidí na hladině?




- (A)  (B)  (C)  (D)  (E) 

6. Eliška nasbírala 12 hříbků, Alice nasbírala 9 hříbků a Irena nenašla žádný. Děvčata dala všechny hříbky dohromady a rovným dílem si je mezi sebou rozdělila. Kolik hříbků dostala Irena?

- (A) 3                      (B) 7                      (C) 8                      (D) 9                      (E) 12

7. Tatínek věší prádlo na šňůru. Na tři kapesníky použije 4 kolíčky. Kolik kolíčků potřebuje na pověšení 9 kapesníků?



- (A) 9                      (B) 10                      (C) 12                      (D) 16                      (E) 18

8. Drak měl 3 hlavy. Pokaždé, když mu statečný rytíř jednu hlavu usekl, narostly drakovi tři hlavy nové. Rytíř již usekl drakovi dvě hlavy. Kolik hlav má drak nyní?

- (A) 4                      (B) 5                      (C) 6                      (D) 7                      (E) 8

