



### písanka 22

🔍 Poznáš některé stromy podle listů a plodů? Napiš jejich název.

🍷 Nabídka: jedle, kaštan, smrk, dub, javor, lípa.



kaštan



dub



smrk



javor



jedle



lípa

👂 Diktát:

Babička bydlí na venkově. Kdo rozbil tu vázu? Lípa má pevné lýko. Auto dostalo smyk. Jitka se často mýlí.

Docvičuj, oprav.

🔍 Víš, co je to fotosyntéza? Vysvětli.

pr.s. 38

2. Anička s Petrem rozstříhali věty. Rózinka však slova pomíchala. Umiš ze slov složit věty? Věty napiš.

v hbitě bytě Kotě nitě. motá Kotě v bytě hbitě motá nitě.

jetelem. Letěl jelen Letěl jelen jetelem.

Pan v plakal. kapli kaplan Pan kaplan v kapli plakal.

Řehoř řeřichu. řeže Řehoř řeže řeřichu.


nepřepepři Kmotře vepře. Petře, toho Kmotře Petře, nepřepepři toho vepře.

- a) Jazykolamy říkej několikrát rychle za sebou.
- b) V každém jazykolamu vlnovkou podtrhni sloveso.

2. Maruška přečetla za rok 325 stránek různých knih. Marta jich přečetla 3krát více než Maruška, Berta o 30 stránek méně než Maruška. Kolik stránek přečetla Marta a kolik Berta? Výsledky zaokrouhli na stovky.

Maruška.....325 stránek  
 Marta.....3 krát více  
 Berta.....o 30 méně

Marta.....?                       $3 \cdot 325 = 900 + 60 + 15 = 975 \approx 1000$   
 Berta.....?                         $325 - 30 = 295 \approx 300$

3  Kamil chtěl za 8 dní přečíst knihu, která měla 55 stránek. Řekl si, že co nejvíce stránek přečte za prvních 7 dní, přičemž každý den přečte stejný počet stránek a poslední den přečte zbytek. Kolik stránek přečetl každý den v prvních sedmi dnech a kolik stránek přečetl poslední osmý den?

$$55:7=7(\text{zb.6})$$

V prvních sedmi dnech přečetl každý den 7 stránek, osmý den přečetl stránek 6.

pr.s. 37

## 6. ŽIVOT V PŘÍRODĚ

### ROSTLINY

1. Rozluštíte jednotlivé názvy rostlin? Rostliny roztrďte.

	1. <del>JH</del>	2. <del>RO</del>	1. <del>DUB</del>	2. <del>KA</del>	3. <del>CEL</del>	
1. <del>TU</del>	2. <del>MAN</del>	1. <del>JE</del>	2. <del>LI</del>	1. <del>TO</del>	2. <del>POL</del>	3. <del>PÁN</del>
	1. <del>CI</del>	2. <del>TEL</del>	1. <del>LÍS</del>	2. <del>BŮ</del>	3. <del>LE</del>	

okrasné byliny: tulipán

léčivé byliny: jitrocel

jedovaté byliny: durman

hospodářské plodiny: jetel









zelenina: cibule

stromy: topol

keře: líška

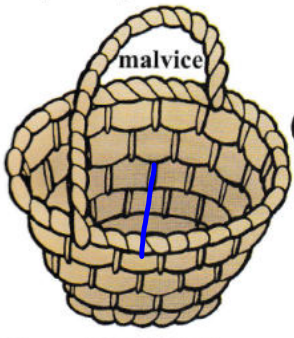
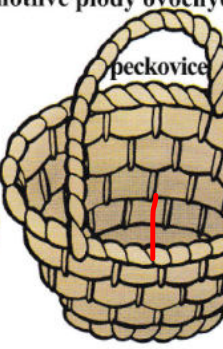
pr.s. 40

9. Vyhledejte ve čtyřsměre názvy rostlin a připište je k jednotlivým obrázkům.

	K O P R E T I N A		
<u>prvosienka</u>	S K N E S O V R		
	S N Á P I L U T		
	T	<i>hádanka:</i>	
	R	<u>kaprad'</u>	
	A		
	S L E Z I N Í K		
<u>přeslička</u>	A K Č I L S E Ř P		
			
			<u>sleziník</u>
			<u>plavuň</u>
			<u>kopretina</u>

d.cv. - pr.s. 41

12. Vystříhnete názvy pro jednotlivé plody ovocných do patřičných košů.

		špenát	řů a nalepte je
		mrkev	
		petržel	
		salát	
		ředkvička	
		okurka	
		rajče	
		cibule	
		česnek	
		paprika	
		švestka	
		jablko	
		meruňka	
		hruška	
		rybíz	
		angrešt	
		višeň	
		třešeň	
		broskev	
		hrozny	

d.cv. - pr.s. 41

11. Vystříhnete názvy pro listovou, kořenovou, plodovou a cibulovou zeleninu a nalepte.



- špenát
- mrkev
- petržel
- salát
- ředkvička
- okurka
- rajče
- cibule
- česnek
- paprika
- švestka
- jablko
- meruňka
- hruška
- rybíz
- angrešt
- višeň
- třešeň
- broskev
- hrozný

Který druh zeleniny chybí? košťálová. Vypište některé zástupce: květák, brokolice, kapusta růž., zelí

d.cv. - pr.s. 41

13. Hospodářské plodiny na obrázcích rozřídíte podle vzoru.

- luskoviny
- obilniny
- okopaniny
- píceiny



Jaký je rozdíl mezi obilím a obilninou? \_\_\_\_\_