

72

Počítej příklady. Jen výsledek "3, 2, 1 START!" může odstartovat písmeno v závorce do mřížky. Vyjde ti název následujícího cvičení.

$$\begin{array}{r} 396 \\ - 38 \\ \hline \end{array}$$

$$\begin{array}{r} 379 \\ - 58 \\ \hline \end{array}$$

$$\begin{array}{r} 369 \\ - 34 \\ \hline \end{array}$$

$$\begin{array}{r} 358 \\ - 35 \\ \hline \end{array}$$

$$\begin{array}{r} 377 \\ - 56 \\ \hline \end{array}$$

$$\begin{array}{r} 400 \\ - 79 \\ \hline \end{array}$$

$$\begin{array}{r} 399 \\ - 67 \\ \hline \end{array}$$

$$\begin{array}{r} 351 \\ - 29 \\ \hline \end{array}$$

START  
(A)

START  
(O)

START  
(E)

START  
(J)

START  
(L)

START  
(Y)

START  
(S)

START  
(I)

$$\begin{array}{r} 385 \\ - 64 \\ \hline \end{array}$$

$$\begin{array}{r} 355 \\ - 39 \\ \hline \end{array}$$

$$\begin{array}{r} 387 \\ - 66 \\ \hline \end{array}$$

$$\begin{array}{r} 368 \\ - 47 \\ \hline \end{array}$$

$$\begin{array}{r} 388 \\ - 57 \\ \hline \end{array}$$

$$\begin{array}{r} 398 \\ - 77 \\ \hline \end{array}$$

$$\begin{array}{r} 369 \\ - 48 \\ \hline \end{array}$$

$$\begin{array}{r} 354 \\ - 33 \\ \hline \end{array}$$

START  
(M)

START  
(Á)

START  
(P)

START  
(I)

START  
(L)

START  
(Á)

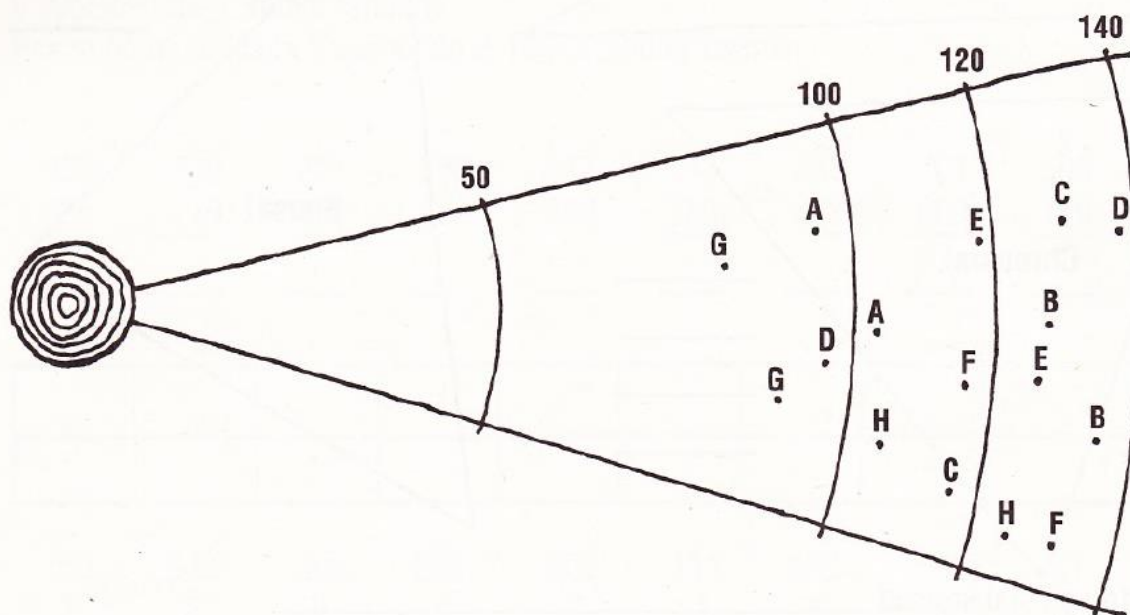
START  
(D)

START  
(A)

--	--	--	--	--	--	--	--	--	--

73

Pařezálové (bydlí totiž v pařezu) pořádali olympiádu. Právě házeli borůvkou do dálky. Každý měl dva pokusy. Změř jejich výsledky a sečti je. Měř od okraje kruhu k místu dopadu borůvky - je označeno tečkou a začátečním písmenem jména závodníka. Měř v milimetrech. Až spočítáš výsledky, rozděl medaile.

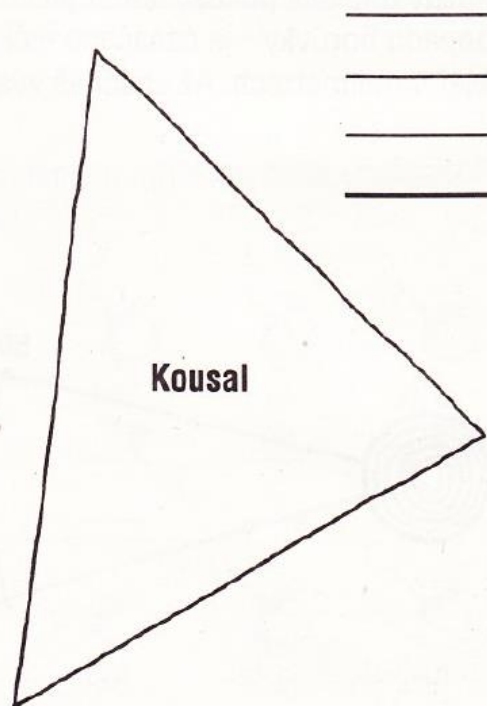
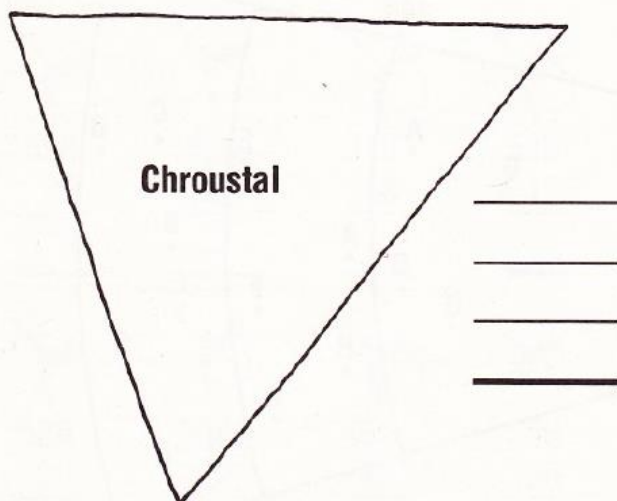
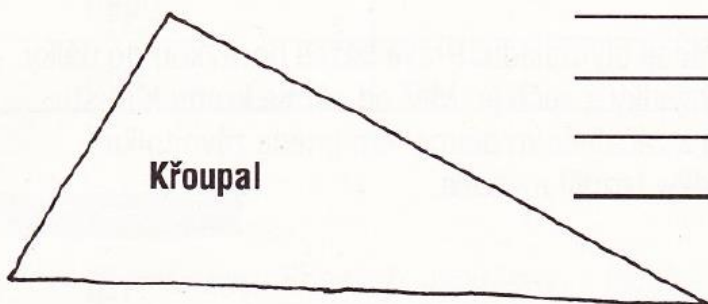


	Ajdík	Bobík	Culík	Dulík	Edík	Frčík	Gajdík	Hudlík
1. hod:								
2. hod:								
součet								

	Jméno	Výkon
zlatá medaile		mm
stříbrná medaile		mm
bronzová medaile		mm

74

V Trojúhelníkově mají všechno ve tvaru trojúhelníka. Dohadovali se jednou sousedé, kdo z nich bude starostou. Rozhodli, že to bude ten, který má nejdelší plot kolem zahrádky. Protože to neumějí vypočítat, prosí tě o pomoc. Měř v milimetrech.



Starostou se stal soused \_\_\_\_\_