
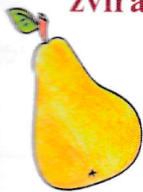


Napiš k podstatným jménům slovo nadřazené: -----

7

Napiš k obrázkům podstatná jména. Názvy osob podtrhni červeně, názvy zvířat modře a názvy věcí zeleně.



8

Vybarvi jen lístečky s podstatnými jmény.



9

Vyškrtej podstatná jména. Přebývající písmena zakroužkuj a doplň tajenku.



KNIHASVLASLKORUNAOPRAHAVKORNOUTEAUTOSDOMEKA

----- jsou slova, která říkají, co osoby, zvířata a věci dělají nebo co se s nimi děje.

10

Podtrhvej slovesa a vypiš je podle abecedy.



Princ bojuje s drakem. Čerti straší ve mlýně. Vodník číhá u rybníka. Rytíř jezdí na koni. Čarodějnice létá na koštěti. Víly tančí na palouku. Hejkal chodí po lese. Skřítky kopou poklady.

1. 2. 3. 4.
5. 6. 7. 8.

1 Vypočítej.

$$(8 \cdot \square) + 16 = \underline{\hspace{2cm}}$$

$$24 : (20 : \square) = \underline{\hspace{2cm}}$$

$$(4 \cdot \square) + 70 = \underline{\hspace{2cm}}$$

$$76 - (4 - \square) = \underline{\hspace{2cm}}$$

$$(16 : \square) \cdot 5 = \underline{\hspace{2cm}}$$

$$25 : (15 : \square) = \underline{\hspace{2cm}}$$

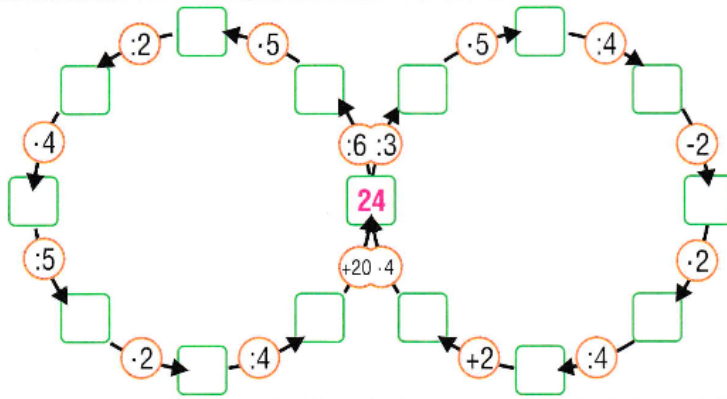
$$(45 : \square) + 36 = \underline{\hspace{2cm}}$$

$$5 \cdot (17 - \square) = \underline{\hspace{2cm}}$$

$$(6 \cdot \square) : 3 = \underline{\hspace{2cm}}$$

$$26 + (45 + \square) = \underline{\hspace{2cm}}$$

2 Vypočítej.



3 Jana má 8 jedniček. Libor má 5krát více jedniček. Marek má 2krát méně jedniček než Jana. Eva má o 7 jedniček více než Jana. Lukáš má o 1 jedničku méně než Jana. **Kolik jedniček má každý uvedený žák?**

Jana

Libor

Marek

Eva

Lukáš



1 Zapiš příklady násobení.

